



# SINDHI HIGH SCHOOL, BENGALURU

Periodic Test III – 2023-2024

Subject: English

Class: 4A/B/C

Date: 9/2/2024

No. of sides printed sides - 3

Max Marks: 30

Reading time: 8:00 – 8:10am

Writing time: 8:10 – 9:10am

## Section A – Reading (5 Marks)

Read the passage given below and choose the correct answer for the questions that follow: 1x5=5

Hundreds of years ago, there was a king who had a very special grinding mill made of stone. It looked like a normal mill but it had special powers. All one had to do was request what one wanted while turning the mill. Out would come whatever was requested. If rice was requested, rice would come out. The king could even request the grinding mill for gold, and it would perform his command.

One day, a thief stole the mill from the palace and tried to escape to his country by boat. Safely, in the boat, the thief tried to think about what to ask the mill for. He decided on salt, something that everyone had a use for. "Make salt," he commanded the mill. The mill started churning out salt. Soon salt was spilling from the sides of the boat, but the thief did not notice this as he was dreaming about how wealthy he would be. Finally, the boat was so full that it sank to the bottom of the sea. And since nobody told it to stop, it is still turning and making the oceans of the world salty.

1. What special power did the grinding stone have?
2. Why did the thief take a boat?
3. Why did the thief decide to ask for salt?
4. What was the thief doing when the mill was making salt?
5. Choose a word from the passage which means the same as:
  - a. asked for (para 1)
  - b. ordered (para 2)

**Section B – Grammar and Writing (10 Marks)**

**A. Pair the compound words to fill in the blanks:**

(½ x4=2)

hill	sun	champion	pillow	time
cover	ship	table	side	glasses

1. Which team is most likely to win the \_\_\_\_\_?
2. We live in a house on the \_\_\_\_\_.
3. I looked up the arrival time of the train in the \_\_\_\_\_.
4. You look silly wearing \_\_\_\_\_ indoors.

**B. Fill in the blanks choosing the correct form of the verbs from the brackets**

(1/2 x4=2)

My grandmother always went to school with me because the school  
a) \_\_\_\_\_ (is attached / attached / was attached) to the temple. While the  
children sat in rows on either side of the corridor b) \_\_\_\_\_ (singing / sang /  
sung) the prayer in chorus, my grandmother sat inside c) \_\_\_\_\_ (read /  
reading / is reading) the scriptures. When we both d) \_\_\_\_\_ (finished /  
finish / were finishing), we went home together.

**C. Use correct suffix / prefix with the given words and complete the sentences:**

(1/2 x2=1)

Raju is not an a) \_\_\_\_\_ (polite) boy. He has always shown b)  
\_\_\_\_\_ (kind) to his friends.

**D. Write a paragraph on the topic 'Importance of Exercise and its benefits.'**

(5 marks)

**Section C – Literature (15 Marks)**

1. **Read the following extract and answer the questions:** (1x4=4)

“At first I thought it was the wet roof of a house. Then, by a lightning flash I saw the Thing clear and bright.”

- a. Which lesson is this extract taken from?
- b. Where was the narrator?
- c. What did the narrator notice?
- d. What was the reaction of the narrator on seeing this?

2. **Answer the following questions:** (2x3=6)

- a. How many Martians had made their appearance on earth? How did they ruin the peace on earth?
- b. How does the speaker describe the air in the poem, ‘Great, Wide, Beautiful, Wonderful World?’
- c. What did the narrator and the soldier see from the window in the morning light?

3. **Answer in detail:** (1x5=5)

In the poem ‘Great, Wide, Beautiful, Wonderful World’, why does the speaker say the world is beautiful? How does the speaker express her/his awe of the mighty World? What does she/he conclude in the end?



SINDHI HIGH SCHOOL, BENGALURU  
PERIODIC TEST - 3 ( 2023 -2024 )

SUBJECT : L 2 KANNADA  
CLASS : IV  
DATE : 13 / 2 / 2024

Max Marks : 30  
Reading time : 8:00am - 8:10 am  
Writing Time : 8:10 am - 9:10 am  
NO.OF SIDES : 3

1 ಈ ಕೆಳಗಿನ ಗದ್ಯಾಂಶವನ್ನು ಓದಿಕೊಂಡು ಅದರ ಕೆಳಗೆ ಕೊಟ್ಟಿರುವ ಪ್ರಶ್ನೆಗಳಿಗೆ ಉತ್ತರ ಬರೆಯಿರಿ. (5 x 1 = 5)

ಮಂಡಗದ್ದೆ ಪಕ್ಷಿಧಾಮವು ಶಿವಮೊಗ್ಗ ಜಿಲ್ಲೆಯ ಮಲೆನಾಡು ಪ್ರದೇಶದಲ್ಲಿ ಕರ್ನಾಟಕದ ತೀರ್ಥಹಳ್ಳಿ ತಾಲ್ಲೂಕಿನ ಸುತ್ತಿರ ಕಂಡುಬರುತ್ತದೆ. ಮಂಡಗದ್ದೆ ಪಕ್ಷಿಧಾಮವು ವಲಸೆ ಹಕ್ಕಿಗಳ ಅದ್ಭುತ ಸಂಗ್ರಹವನ್ನು ಹೊಂದಿದೆ. ಇದು ಅತಿದೊಡ್ಡ ಪಕ್ಷಿಧಾಮಗಳಲ್ಲಿ ಒಂದಾಗಿದೆ. ಆದರೆ ಇದು ವಿವಿಧ ಪಕ್ಷಿಗಳ ಆವಾಸಸ್ಥಾನವಾಗಿದೆ. ಮಂಡಗದ್ದೆಯು ದಟ್ಟವಾದ ಅರಣ್ಯದಿಂದ ಆವೃತವಾಗಿದೆ ಮತ್ತು ಹರಿಯುವ ತುಂಗಾ ನದಿಯು ಒಂದು ಸುಂದರವಾದ ದ್ವೀಪವನ್ನು ರೂಪಿಸುತ್ತದೆ.

ಇಲ್ಲಿ ಮಧ್ಯದ ಮರಳಿನ ದಂಡೆಯಲ್ಲಿ ನೀವು ಪಕ್ಷಿಗಳನ್ನು ನೋಡಿ ಆನಂದಿಸುವಿರಿ ಮತ್ತು ಉದಯಿಸುವ ಸೂರ್ಯ ಮತ್ತು ಪಕ್ಷಿಗಳ ಕರೆಯೊಂದಿಗೆ ಎಚ್ಚರಗೊಳ್ಳುವ ಅಪರೂಪದ ಅವಕಾಶವನ್ನು ಹೊಂದಿರುವ ಪ್ರಕೃತಿಯ ವೈಭವವನ್ನು ಆನಂದಿಸುವಿರಿ. ಮಂಡಗದ್ದೆ ಪಕ್ಷಿಧಾಮದಲ್ಲಿ ಪಕ್ಷಿಗಳನ್ನು ಕಣ್ತುಂಬಿಕೊಳ್ಳಲು ವಾಚ್ ಟವರ್ ನಿರ್ಮಿಸಲಾಗಿದೆ. ಪಕ್ಷಿಧಾಮವು ವಿಶೇಷವಾಗಿ ಪಕ್ಷಿ ಪ್ರಿಯರಿಗೆ ಭೇಟಿ ನೀಡಲು ಯೋಗ್ಯವಾದ ಸ್ಥಳವಾಗಿದೆ. ತುಂಗಾ ನದಿಯ ಮಧ್ಯದಲ್ಲಿರುವ ದ್ವೀಪವು ವಿಶಾಲ ಜಾತಿಯ ಪಕ್ಷಿಗಳಿಗೆ ಆಹಾರ ಮತ್ತು ಆಶ್ರಯವನ್ನು ನೀಡುತ್ತದೆ. ಮಂಡಗದ್ದೆಗೆ ಸೇರುವ ಮಾರ್ಗದಲ್ಲಿ ಪ್ರಯಾಣಿಕರು ಸಕ್ರೆಬೈಲ್ ಆನೆ ತರಬೇತಿ ಶಿಬಿರ ಮತ್ತು ಗಾಜನೂರು ಅಣೆಕಟ್ಟು ಪ್ರದೇಶಕ್ಕೆ ಭೇಟಿ ನೀಡಬಹುದು.

1 . ಮಂಡಗದ್ದೆ ಪಕ್ಷಿಧಾಮದಲ್ಲಿ ಪಕ್ಷಿಗಳನ್ನು ಕಣ್ತುಂಬಿಕೊಳ್ಳಲು \_\_\_\_\_ ನಿರ್ಮಿಸಲಾಗಿದೆ.

ಅ) ವಾಚ್ ಟವರ್      ಆ) ತಾಜ್ ಟವರ್      ಇ) ಗಿಟಾರ್ ಟವರ್      ಈ) ಹಿಲ್ ಟವರ್

2. ಮಂಡಗದ್ದೆ ಪಕ್ಷಿಧಾಮವು ಕರ್ನಾಟಕದ ಈ ಜಿಲ್ಲೆಯಲ್ಲಿದೆ.

ಅ) ಮೈಸೂರು      ಆ) ಬೆಂಗಳೂರು      ಇ) ಶಿವಮೊಗ್ಗ      ಈ) ತುಮಕೂರು

3. ಮಂಡಗದ್ದೆ ಪಕ್ಷಿಧಾಮದಲ್ಲಿ ಈ ನದಿಯು ಹರಿಯುತ್ತದೆ. .

ಅ) ಕೃಷ್ಣ      ಆ) ಗಂಗಾ      ಇ) ಯಮುನಾ      ಈ) ತುಂಗಾ

4. ಮಂಡಗದ್ದೆಗೆ ಹೋಗುವ ಮಾರ್ಗದಲ್ಲಿ ಪ್ರಯಾಣಿಕರು \_\_\_\_\_ ತರಬೇತಿ ಶಿಬಿರವನ್ನು ನೋಡಬಹುದು .

ಅ) ಸಕ್ರೈಬೈಲ್ ಆನೆ      ಆ) ಸಕ್ರೈಬೈಲ್ ಜಿಂಕೆ      ಇ) ಸಕ್ರೈಬೈಲ್ ಕೋತಿ      ಈ) ಸಕ್ರೈಬೈಲ್ ಮೊಲ

5. ಮಂಡಗದ್ದೆಯು ದಟ್ಟವಾದ \_\_\_\_\_ ದಿಂದ ಆವೃತವಾಗಿದೆ.

ಅ) ನಗರ      ಆ) ಆಕಾಶ      ಇ) ಅರಣ್ಯ      ಈ) ಸಮುದ್ರ

II ಕೆಳಗಿನ ಪ್ರತಿಯೊಂದು ಪ್ರಶ್ನೆಗೂ ನಾಲ್ಕು ಉತ್ತರಗಳನ್ನು ಕೊಡಲಾಗಿದೆ. ಅವುಗಳಲ್ಲಿ ಸರಿಯಾದ ಉತ್ತರವನ್ನು ಆರಿಸಿ ಬರೆಯಿರಿ. (8 x1=8)

1 ' ಹೆಬ್ಬಾಗಿಲು '- ಈ ಪದದ ಸಮಾನಾರ್ಥಕ ಪದ

ಅ) ಹಿಂಬಾಗಿಲು      ಆ) ಸಣ್ಣದ್ವಾರ      ಇ) ಕೋಣೆಗಳು      ಈ) ಮುಖ್ಯದ್ವಾರ

2. ' ಕರುಣೆ '- ಈ ಪದದ ವಿರುದ್ಧ ಪದ

ಅ) ಸಹನೆ      ಆ) ಆಕರುಣೆ      ಇ) ನಿಷ್ಕರುಣೆ      ಈ) ಕರುಣೆ

3. ' ಶಿಕ್ಷಕಿ '- ಈ ಪದದ ಅನ್ಯಲಿಂಗ ರೂಪ

ಅ) ಶಿಕ್ಷಕರು      ಆ) ಶಿಕ್ಷಕ      ಇ) ಶಿಕ್ಷಕಿಯರು      ಈ) ಹುಡುಗಿಯರು

4. ' ನೋಡುತಲಿ ' - ಈ ಪದದ ಪದ್ಯದಲ್ಲಿರುವಂತೆ ಪ್ರಾಸಪದ ಗುರುತಿಸಿ.

ಅ) ಜಂಭದಲಿ      ಆ) ನಡೆದಿಲ್ಲ      ಇ) ನೋಡಲಿಲ್ಲ      ಈ) ಕರಗಿತ್ತು

5. ' ಮಗು ' - ಈ ಪದದ ಬಹುವಚನ ರೂಪ

ಅ) ಮಗುಗಳು      ಆ) ಮಕ್ಕಳು      ಇ) ಹುಡುಗ      ಈ) ಮಗು

6. ಕುಣಿದು + ಆಡಿ -> ಈ ಪದವನ್ನು ಕೂಡಿಸಿ ಬರೆದಾಗ

ಅ) ಕಣಿದುಆಡಿ      ಆ) ಕುಣಿದುಆಡಿ      ಇ) ಕುಣಿದಾಡಿ      ಈ) ಕುಣಿದುದಾರಿ

7. ಕೆಳಗೆ ಕೊಟ್ಟಿರುವ ಪದಗಳಲ್ಲಿ ಗುಂಪಿಗೆ ಸೇರದ ಪದವನ್ನು ಗುರುತಿಸಿ ಬರೆಯಿರಿ.

ಅ) ದಾಂಡು      ಆ) ಮೈಸೂರು      ಇ) ಚೆಂಡು      ಈ) ಗೋಲಿ

8. ಮನೆಯನ್ನು-> ಈ ಪದವನ್ನು ಬಿಡಿಸಿ ಬರೆದಾಗ

ಅ) ಮನೆ + ಯನ್ನು      ಆ) ಮನೆ + ಇಂದ      ಇ) ಮನೆ + ಯಿಂದ      ಈ) ಮನೆ + ಅನ್ನು

III ಕೆಲಗಿನವುಗಳನ್ನು ಸೂಚನೆಯಂತೆ ಬರೆಯಿರಿ.

(4 x 1 = 4)

- 1) 'ಪ್ರವಾಸ' - ಈ ಪದವನ್ನು ಸ್ವಂತ ವಾಕ್ಯದಲ್ಲಿ ಬರೆಯಿರಿ
- 2) ಈ ಕೆಲಗಿನ ಗಾದೆಯನ್ನು ಪೂರ್ಣಗೊಳಿಸಿ.

ದೇಶ ಮತ್ತು \_\_\_\_\_

- 3) ಗುರುಗಳೇ ಈ ಕೋಟೆಯನ್ನು ಏಕೆ ಕಟ್ಟಿದಾರೆ - ಈ ವಾಕ್ಯಕ್ಕೆ ಲೇಖನ ಚಿಹ್ನೆಯನ್ನು ಬರೆಯಿರಿ.
- 4) ವಿಮಾನ ಚಂದ ನೋಡಲು ಹಾರುವ ಆಕಾಶದಲ್ಲಿ - ವಾಕ್ಯವನ್ನು ಸರಿಪಡಿಸಿ ಬರೆಯಿರಿ.

IV ನಿಮ್ಮ ಆತ್ಮನ ಮದುವೆ ಇರುವುದರಿಂದ ಮೂರು ದಿನ ರಜೆ ಕೋರಿ ನಿಮ್ಮ ತರಗತಿಯ ಶಿಕ್ಷಕರಿಗೆ ಪತ್ರ ಬರೆಯಿರಿ.(4)

V ಕೆಲಗಿನ ಪ್ರಶ್ನೆಗಳಿಗೆ ಒಂದು ವಾಕ್ಯದಲ್ಲಿ ಉತ್ತರಿಸಿ .

(3 x 1 = 3)

1. ಗಾಳಿ ಪಟವು ಯಾರ ಕೈಯಲ್ಲಿ ಇತ್ತು ?
2. ಪತ್ರದಲ್ಲಿ ಏನನ್ನು ಮೂಡಿಸುವಾಗ ಸಂತೋಷವಾಗುತ್ತದೆ ?
3. ಮಕ್ಕಳು ಯಾವ ಊರಿಗೆ ಪ್ರವಾಸ ಹೊರಟರು ?

VI . ಕೆಲಗಿನ ಪ್ರಶ್ನೆಗಳಿಗೆ ಎರಡು/ ಮೂರು ವಾಕ್ಯಗಳಲ್ಲಿ ಉತ್ತರಿಸಿ .

(2 x 2 = 4)

1. ಮಧ್ಯಿನ ಮನೆಯನ್ನು ಏಕೆ ನಿರ್ಮಿಸಿದಾರೆ ?
2. ಪುಟ್ಟನು ಗೆಲೆಯರಿಗೆ ಜಂಭದಿಂದ ಏನನ್ನು ಹೇಳಿದನು ?

VII . ಈ ಮಾತನ್ನು ಯಾರು - ಯಾರಿಗೆ ಹೇಳಿದರು .

(2 x 1 = 2)

1. "ಯಾವುದೋ ಹಳೆಯ ಅರಮನೆ ಸ್ಥಳ ಕಾಣುತ್ತಿದೆ" -

\*\*\*\*



## SINDHI HIGH SCHOOL, BENGALURU -01

III Periodic test ( 2023- 24)

ADDITIONAL LANGUAGE HINDI

CLASS – 4

DATE – 7 / 02/2024

No of printed sides – 03

Max Marks - 30

Reading time – 8:00 to 8:10

Writing time – 8:10 to 9:10

( खंड - क )

। निम्नलिखित गद्यांश को पढ़कर सही उत्तर लिखिए। ( 5 )

हिंदू धर्म के अनुसार गंगा नदी को भारत की पवित्र नदी माना गया है। इसका प्रमाण हमें वेदों और पुराणों से मिलता है। इसकी लंबाई 2525 किलोमीटर है। यह भारत की सबसे लंबी नदी है। हिंदू परंपरा में इसे देवी और माँ के रूप में माना जाता है। गंगा नदी को भागीरथी के नाम से भी जाना जाता है। गंगा के पानी में अधिक मात्रा में गंधक भी होता है, इसलिए यह लंबे समय तक खराब नहीं होता और इसमें कीड़े पैदा नहीं होते।

1. हिंदू धर्म के अनुसार किस नदी को भारत की पवित्र नदी माना गया है ?

- i) नर्मदा                      ii) गोदावरी  
iii) गंगा                      iv) कावेरी

2. हमें गंगा नदी के बारे में कहाँ से प्रमाण मिलता है ?

- i) किताबों से                      ii) वेदों और पुराणों से  
iii) रेडियो से                      iv) लोगों से

3. गंगा नदी की लंबाई कितनी है ?

- i) 1234 किलोमीटर                      ii) 2625 किलोमीटर  
iii) 2525 किलोमीटर                      iv) 1200 किलोमीटर

4. गंगा नदी को किस और नाम से जाना जाता है ?

- i) भागीरथी                      ii) गंगा  
iii) सुधा                      iv) कुसुमा

5. गंगा में किसकी मात्रा अधिक होती है, जिससे इसके पानी में कीड़े नहीं होते ?

- i) शक्कर                      ii) नमक  
iii) गंधक                      iv) तेल

( खंड - ख )

II क) निम्नलिखित शब्दों के साथ इक या ता जोड़कर नए शब्द बनाइए। ( 2 )

उदाहरण समूह+ इक= सामूहिक

- i) धर्म      ii) समाज      iii) वीर      iv) सुंदर

ख) विलोम शब्द लिखिए। ( 2 )

- i) उदास      ii) साध्य      iii) पुरस्कार      iv) अनहोनी

ग) पर्यायवाची शब्द लिखिए। ( 2 )

- i) बेटा      ii) मनुष्य      iii) योग्य      iv) महिला

घ) निम्नलिखित मुहावरों के अर्थ लिखिए। ( 2 )

- i) चेहरा चमकना  
ii) राह देखना

ङ) निम्नलिखित वाक्यों को उचित योजक शब्द लगाकर पूरा कीजिए। ( 2 )

( कि, तथा, इसलिए, क्योंकि )

- i) वह इतना बीमार था \_\_\_\_\_ मैं उसी की सेवा करने में उलझा रह गया।  
ii) राम \_\_\_\_\_ भीम खेल रहे थे।  
iii) मेरी माँ ने मुझे डाँटा \_\_\_\_\_ मैंने पढ़ाई नहीं की थी।  
iv) मेरे चाचा जी गाँव जा रहे थे \_\_\_\_\_ मुझे घर जल्दी जाना पड़ा।

च किसने कहा? किससे कहा? ( 2 )

- i) " लगता है अपना ब्रीफकेस भूल गया।"  
ii) " इसमें तो बम है।"

( खंड - ग )

III निम्नलिखित प्रश्नों के सही उत्तर लिखिए। ( 2 )



1. आचार्य कौन थे?

चिकित्सक, रसायनशास्त्री, सहायक, डाक्टर

2. दोनों नौजवान कैसे थे?

पढ़े लिखे, एक जैसे पढ़े लिखे, अनपढ़, अच्छे

3. अतिन किस कक्षा का छात्र था?

पहली, दूसरी, चौथी, आठवी

4. अतिन को गणतंत्र दिवस के किस कार्यक्रम में भाग लेना था?

सामूहिक खेल, सामूहिक व्यायाम, सामूहिक भोजन, सामूहिक नृत्य

**IV एक वाक्य में उत्तर लिखिए। ( 4 )**

1. ब्रीफ़केस में क्या था?

2. बस में अतिन कहाँ बैठा था?

3. आचार्य का नाम क्या था?

4. आचार्य ने किसे अपना सहायक बनाया?

**V दो तीन वाक्यों में उत्तर लिखिए। ( 4 )**

1. राजा ने आश्चर्यपूर्वक आचार्य से क्या पूछा?

2. अतिन मन ही मन क्यों खुश हो रहा था?

( खंड - घ )

**VI पेड़ों का महत्व इस विषय पर एक अनुच्छेद लिखिए। ( 3 )**

\*\*\*\*\*



SINDHI HIGH SCHOOL, KK ROAD, BENGALURU-1.

PERIODIC TEST - 3, (2023-24)

SUBJECT : MATHEMATICS

CLASS: 4 ABC

Date: 12.2.2024

Marks 30

No. of printed sides: 3

Reading Time: 8:00 to 8:15am

Writing time: 8:15 to 9:15am

General Instructions.

- Write your name, roll number, class/section, date and subject clearly in the answer script.
- Write the page number on the right hand side top corner of each side of the paper.
- All questions are compulsory.
- This question paper contains five Sections, Section-A, Section-B, Section - C, Section - D and Section - E.
- Section-A consists of 6 Multiple Choice Questions of one mark each.
- In Section-B question numbers 7, 8 and 9 carry two marks each.
- In Section- C question numbers 10, 11 and 12 carry three marks each.
- In Section-D question number 13 carries five marks
- In Section - E question number 14 carries 4 marks.

SECTION - A

Choose the correct answer.

(6 x 1 = 6)

- From a handkerchief which measures 1 m, 30 cm is cut. What is the length of the remaining handkerchief?  
a. 70cm      b. 8cm      c. 100cm      d. 20cm
- Reena bought vegetables weighing 3 kg. What is the weight of these vegetables in grams?  
a. 30 grams      b. 300 grams      c. 3000grams      d. 3 grams
- What is the perimeter of a rectangular table of length 60cm and breadth 40cm?  
a. 400cm      b. 10,000cm      c. 100cm      d. 200cm

4. What is the area of a square whose side is 6m?  
 a. 144sq.m      b. 24sq.m      c. 48sq.m      d. 36sq.m

5. How many kilograms are there in 9759 grams?  
 a.  $\frac{59}{100}$  kg      b.  $\frac{9759}{100}$  kg      c. 1000 kg      d. 9.759 kg

6. The standard unit of capacity is \_\_\_\_\_.  
 a. metre      b. litre      c. kilometer      d. kilolitre

**SECTION- B**

(3 X 2 = 6)

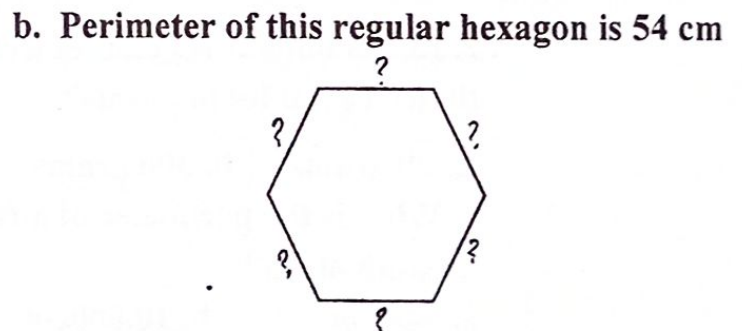
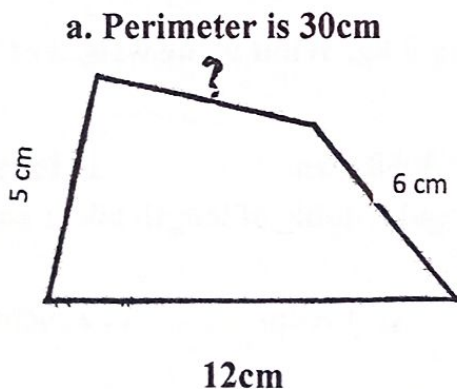
7. Find the perimeter of a triangle with equal sides of length 21cms each.  
 8. Solve the following:  
 a. 37 l 659 ml + 11 l 814ml  
 b. 24 km 675 m – 12 km 281 m

9. Convert as directed:  
 a. 7067 grams into kilograms and grams  
 b. 18 m 24 cm into centimetres.

**SECTION – C**

(3x3 = 9)

10. A rectangular playground is 150m long and 93m wide. Find the perimeter of the playground.  
 11. Find the missing length in each of the following figures if



c. The area of the given shape is \_\_\_\_\_ sq units.



12. Shilpa bought  $6\frac{1}{350}$  ml of milk. Mamta bought  $5\frac{1}{460}$  ml of milk. Who bought more milk and by how much?

SECTION D

(5 x 1 = 5)

13. a. Ganavi made  $20\frac{1}{750}$  ml of homemade lemonade on Sunday and  $15\frac{1}{500}$  ml of lemonade on Monday. Find the sum and difference in the amount of lemonade made on both the days.


b. Riya buys two m of cloth to stitch a shirt. How much is this in centimetres?

SECTION E


(4 marks)

14. Mr. Ashok has two pieces of land, one is rectangle in shape and the other is square. He wants to fence both the pieces.

a. What is the length of wire he needs to fence the rectangular field?



b. What is the length of wire he needs to fence the square field?



c. Which field needs more wire and by how much?



SINDHI HIGH SCHOOL, K.K.ROAD, BENGALURU-01

PERIODIC TEST 3: (2023-2024)

SUBJECT- SCIENCE

Class: IV

Date: 6/2/2024

No. of sides: 02

Max Marks: 30

Timings: 8:00 am to 9:10 am


Reading Time: 8:00 am to 8:10 am

Writing Time: 8:10 am to 9:10 am

General instructions:

- Write your name, roll number, class, section, date and subject clearly in your answer script.
- Write the page number on right hand side top corner of each side of the paper.
- All questions are compulsory.

I	<b>Complete the analogy.</b> 1. Breathing problems: Air pollution :: Hypertension: _____ 2. Blue planet: Earth :: Red planet: _____ 3. Increase in fertility of soil: Fertilizers :: getting rid of pests: _____ 4. Dormant volcano : _____ :: Active volcano: Mount Etna.	4*1= 4
II	<b>Fill in the blanks.</b> 1. Harmful change in the environment due to human activities is called _____. 2. Increase in atmospheric carbon-di-oxide leads to _____. 3. The brightest and hottest planet is _____. 4. The path in which a planet revolves around the sun is called _____.	4*1= 4
III	<b>Give two examples.</b> 1. Diseases caused by polluted water 2. Causes of noise pollution 3. Artificial satellites 4. Constellation.	4*1= 4

IV	<b>Differentiate between the following.</b> 1. Rotation of earth and revolution of earth. 2. Biodegradable waste and non-biodegradable waste.	$2 \times 2 =$ 4
V	<b>Answer the following.</b>    1. a. Identify the type of pollution. b. How can we prevent the pollution depicted in the image above? (any two points)  2. Backyard gardening was Raju's hobby. He gathered fruit, vegetable peels and dumped them into the ground. (a) Name the end product obtained after few days and what is this process called? (b) List the 4R's that help to save the environment. 3. a. The sun appears larger than other stars in the sky. Give reason. b. Define i) Magma. ii) Planet	$3 \times 3 =$ 9  1 2  3  1  2
VI	a. Draw a neat labelled diagram of formation of day and night. b. Name the outer planets of our solar system.	3 2



SINDHI HIGH SCHOOL

K.K. ROAD BENGALURU -01(2023-2024)

Periodic Test 3

Subject: Social Science

Name: \_\_\_\_\_

Date : 8 / 2 / 2024

Class: IV A/ B/ C

Marks: 30

Roll no: \_\_\_\_\_

Reading time: 8:00-8:10 am

Writing time : 8:10-9:10 am

No of sides printed: 2

QI. Choose the correct option :

(4x<sup>1</sup>/2=2)

1. Varanasi ,Coimbatore and Kanchipuram are centres of which important Industry?  
a) Iron and steel      b) Silk Textile      c) Sugar      d) Aircraft
2. The cave paintings at \_\_\_\_\_ depict the life of early man.  
a) Ajanta      b) Red fort      c) Bhimbetka      d) Temples
3. How many languages are recognised by the Constitution of India?  
a) 17      b) 22      c) 16      d) 25
4. \_\_\_\_\_ is a popular spectator sport in Sindhi villages.  
a) Wrestling      b) Cock-fighting      c) Cards      d) Kabaddi

QII. True or false:

(4x<sup>1</sup>/2=2)

1. Industries transform natural things into more useful products.
2. Gazal is an example of carnatic music.
3. Ahmedabad is called the Manchester of India.
4. Kathakkali is a classical dance of Odisha.

QIII. Complete the Analogy:

(1x4=4)

1. Bihu : Assam :: \_\_\_\_\_ : Nagaland.
2. Cotton textiles : Kolkata :: Woollen Textiles : \_\_\_\_\_
3. \_\_\_\_\_ : Lavani :: Rajasthan : Goomer and Kallibelis
4. Pandit RaviShakar : Sitar :: Ustad Zakir Hussain : \_\_\_\_\_


**QIV. Identify me:**

**(4x1=4)**

1. We are the things which are used to manufacture and transform into new goods. \_\_\_\_\_
2. I am a special harvest festival. I am a very popular festival of Allahabad. \_\_\_\_\_
3. I am the only large scale industry in the private sector in India. \_\_\_\_\_
4. I am a famous monument in Agra. I was built by ShahJahan . I am made of white marble. \_\_\_\_\_


**QIV. Answer the following:**

1. Define Heritage. (1)
2. Mention few traditional pastime of Sindhi men. (1)
3. What is an Industry ? (1)
4. List two examples of Indian architecture. (2)
5. Identify the picture: (2)



a)

b)



6. Where are the Ajanta Caves ? What are they famous for? (2)
7. Money is one of the most important factor in establishing an industry.-  
Justify (2)
8. List and explain any 3 factors essential for setting up of an industry. (3)
9. Distinguish between : (4)
  - a) Small Scale industries and Large scale Industries
  - b) National Festival and Religious Festival